



BAULA

5è Primària > Coneixement del medi > Espanya: Relleu i població

FITXA 1: Els elements del relleu

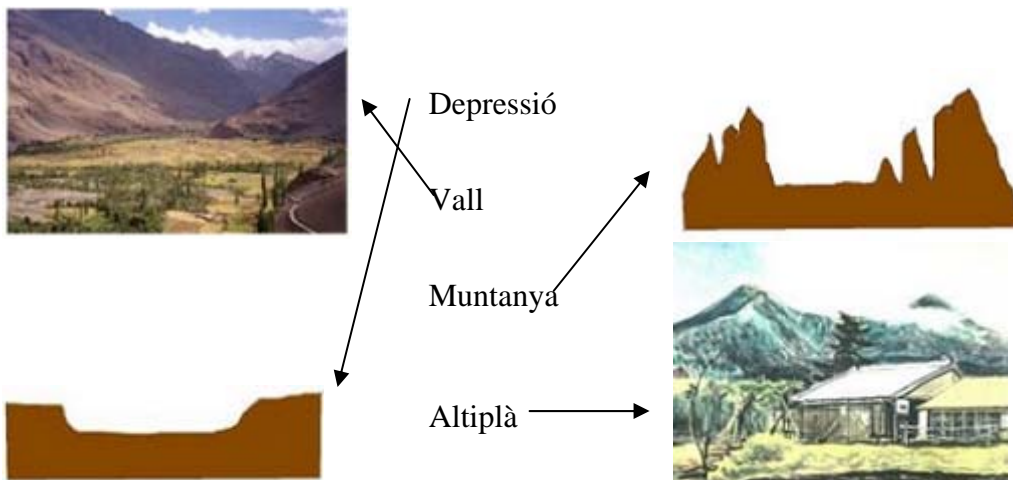
Centre:

Alumne/a:

Curs:

Data:

A.1. RELACIONA CADA PARAULA AMB EL DIBUIX CORRESPONENT MITJANÇANT UNA FLETXA:



A.2. RESPON A LES PREGUNTES SEGÜENTS:

Com s'anomena la localitat on vius?

Quin és el sistema muntanyós o accident del relleu que tens més pròxim dels que hem vist en el tema?

Com es diu el riu que passa per la teva localitat?

Si és un afluent, a quin altre riu aboca les aigües?

Si no és un afluent, a quin vessant pertany?

De quin tipus és el clima de la teva localitat?

Quin és el parc nacional que et queda més a prop?

Escriu el nom de tres localitats veïnes per on passi un riu. Diques també com s'anomenen aquests rius.



BAULA

5è Primària > Coneixement del medi > Espanya: Relleu i població

FITXA 3: Els rius d'Espanya

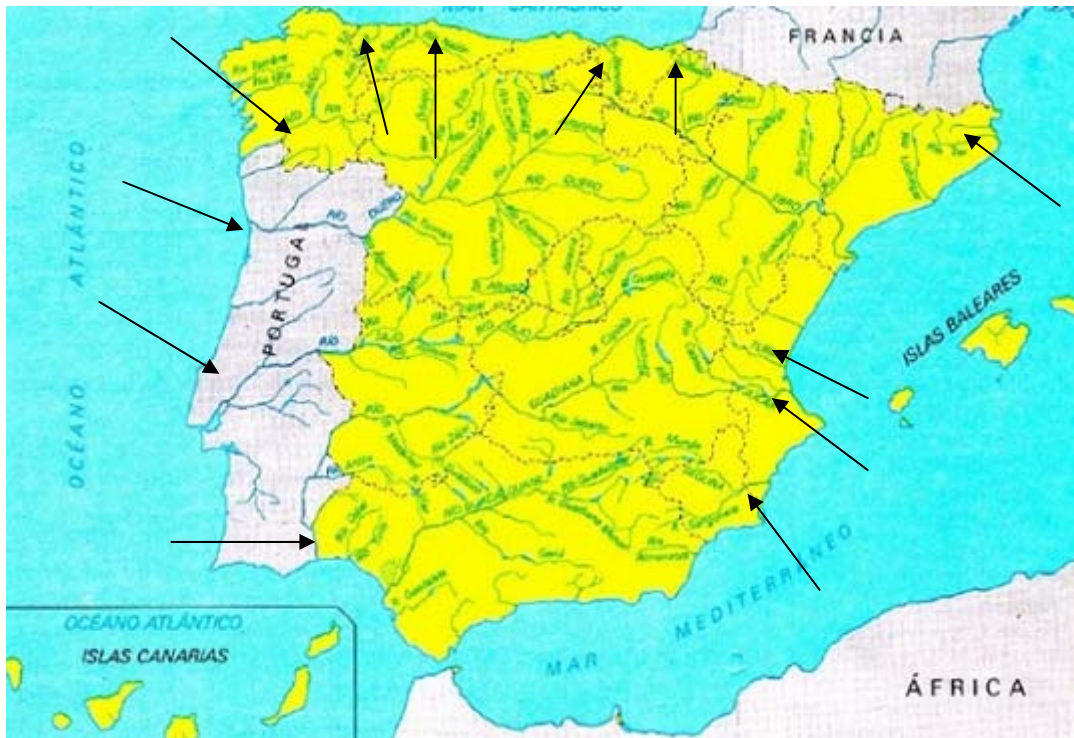
Centre:

Alumne/a:

Curs:

Data:

A.1. OBSERVA EL MAPA SEGÜENT DELS RIUS D'ESPANYA:



1. Situa la localitat on vius en el mapa i marca el riu que hi passa o, almenys, el més proper.
2. Escriu i marca quatre rius del vessant mediterrani.
Ter, Túria, Xúquer i Segura.
3. Escriu i marca quatre rius del vessant atlàntic.
Miño, Duero, Tajo i Guadiana.
4. Escriu i marca quatre rius del vessant cantàbric.
Bidasoa, Nalón, Nervión i Eo.
5. Quin és el riu més llarg del vessant mediterrani? Escriu, fixant-te en el mapa, quatre afluents d'aquest riu.
Fixa't en el mapa i escriu-ne quatre afluents.
Ebre. Segre, Alcanadre, Agra, Huerva.
Escriu quatre afluents del riu Duero i quatre del Tajo.
Desemboquen aquests rius a Espanya?
Són afluents del Duero el Pisuerga, l'Esla, el Duratón i el Riaza.



Són afluents del Tajo l'Alberche, el Tiétar, l'Alagón i el Jarama.

El Duero desemboca a Oporto (Portugal) i el Tajo, a Lisboa (Portugal).



BAULA

5è Primària > Coneixement del medi > Espanya: Relleu i població

FITXA 4: Mapa físic d'Espanya

Centre:

Alumne/a:

Curs:

Data:

A.1. OBSERVA AQUEST MAPA FÍSIC D'ESPANYA I RESPON A LES PREGUNTES:



1. Situa la localitat on vius en el mapa i digues si es troba a la Meseta, en un sistema muntanyós o, almenys, quin és el més proper.
2. Localitza en el mapa la ciutat de Zamora i respon: es troba a la Meseta nord o sud? A la Meseta nord.
Quin riu passa per Zamora? *Duero*.
3. Escriu el nom de tres ciutats amb un clima mediterrani:
València, Castelló i Alacant.
4. Escriu el nom de tres ciutats que pertanyin a la costa cantàbrica.
Santander, Bilbao i Oviedo.
5. Escriu el nom de dues ciutats que pertanyin a la costa atlàntica gallega i dues que pertanyin a l'atlàntica andalusa.
Lugo i la Corunya.
Huelva i Cadis.



6. Escriu el nom d'una ciutat o zona que tingui clima continental i una altra que tingui clima subtropical.

Madrid i Las Palmas de Gran Canaria.

7. Quin mar banya les costes de Màlaga?

El mar Mediterrani.



FITXA 5: Població

Centre:

Alumne/a:

Curs:

Data:

A.1. OBSERVA AQUESTES DADES SOBRE FRANÇA:

SUPERFÍCIE: 551.500 km²

TAXA DE NATALITAT: 500.000

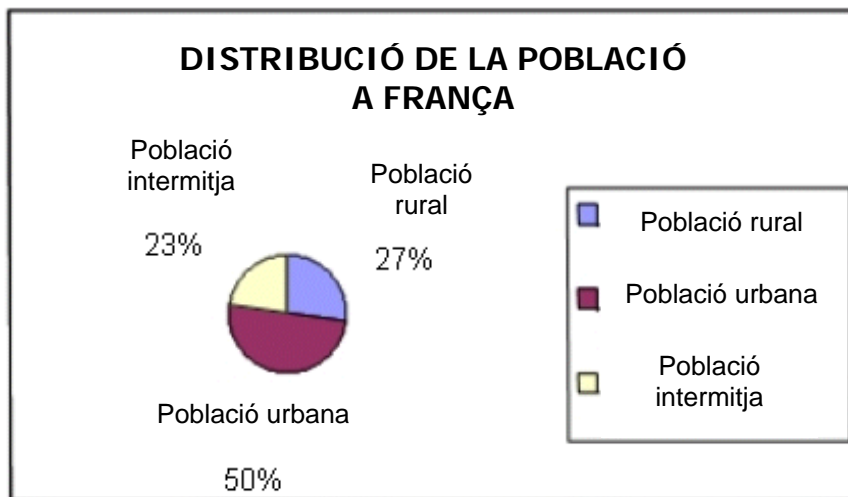
POBLACIÓ: 58.000.000

TAXA DE MORTALITAT: 450.000

ESPERANÇA DE VIDA: 81 anys

IMMIGRANTS: 200.000

EMIGRANTS: 50.000



[DISTRIBUCIÓ DE LA POBLACIÓ A FRANÇA; població intermèdia; població rural; població urbana]

1. Calcula la densitat de població.

105.17 habitants/km²

2. Calcula el creixement vegetatiu.

Taxa bruta de natalitat = (naixements/població) x 1.000

8.62/1.000

3. Calcula el nombre de persones que van començar a viure a França:

TAXA DE NATALITAT + IMMIGRANTS = 700.000

4. Calcula el nombre de persones que van deixar de viure a França:

TAXA DE MORTALITAT + EMIGRANTS = 500.000

5. Calcula el creixement de la població a França:

RESPOSTA PREGUNTA 3 – RESPOSTA PREGUNTA 4 = 200.000

6. Comenta com és la distribució de la població a França:

La meitat de la població viu a les ciutats, tot i que sí que hi ha un alt percentatge (>25%) de població rural.



BAULA

5è Primària > Coneixement del medi > Espanya: Relleu i població

FITXA 6: Gràfics de població

Centre:

Alumne/a:

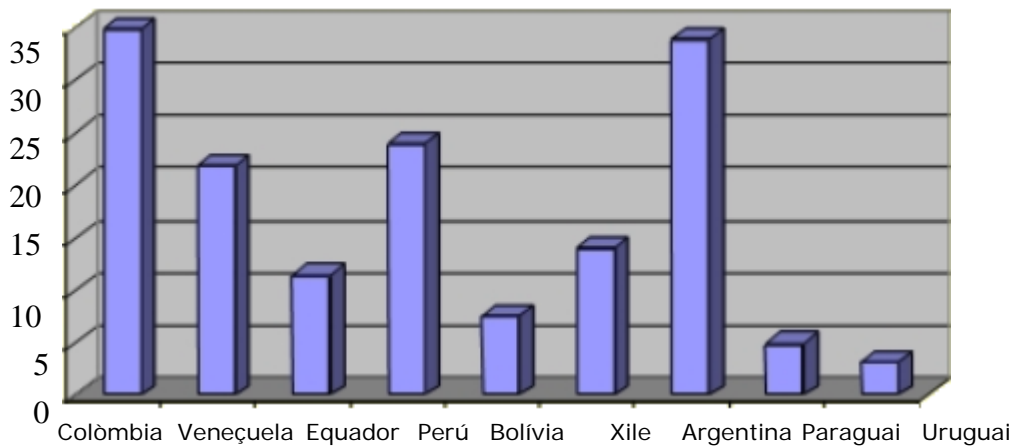
Curs:

Data:

A.1. ET PRESETEM UN GRÀFIC DE LA SUPERFÍCIE DELS PAÏSOS DE L'AMÈRICA DEL SUD:

POBLACIÓ EN MILIONS

POBLACIÓ AMÈRICA DEL SUD



1. Quin és el país dels representats que té més població? Quanta? *Colòmbia i l'Argentina, amb gairebé 35 milions d'habitants.*
2. Quin és el país que té menys quantitat de població? Quina quantitat? *L'Uruguai, amb 2,5 milions d'habitants.*

A.2. LES SUPERFÍCIES D'AQUESTS PAÏSOS SÓN: (TOTES LES DADES ESTAN EN KM²):

Superfície en km²

PAÏSOS



[COLÒMBIA]

1. Calcula la densitat de població dels països i ordena'ls de manera creixent.



BAULA

*Colòmbia: 31,82 hab./km
Perú: 18.4 hab./km
Argentina: 12,22 hab./km*

*Veneçuela: 22,22 hab./km
Bolívia: 5,45 hab./km
Paraguai: 10 hab./km*

*Equador: 40 hab./km
Xile: 18,57 hab./km
Uruguai: 9 hab./km*

En ordre: Equador > Colòmbia > Veneçuela > Xile > Perú > Argentina > Paraguai > Uruguai.



BAULA

5è Primària > Coneixement del medi > Espanya: Relleu i població

FITXA 7: Els sectors i els transports

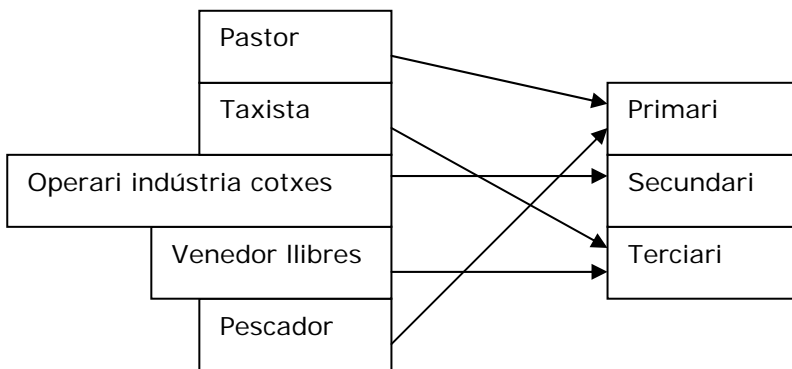
Centre:

Alumne/a:

Curs:

Data:

A.1. UNEIX AMB FLETXES LES PROFESSIONS SEGÜENTS AMB EL SECTOR A QUÈ PERTANYEN:



A.2. ASSENYALA AMB UNA X EL TRANSPORT USAT PER TRASLLADAR CADA TIPUS DE MERCADERIA:

	Transport aeri	Transport carretera	Transport marítim	Transport ferroviari
Bestiar		X		X
Persones	X	X	X	X
Petroli			X	X
Ciment		X		X
Fruites		X	X	
Cotxes	X	X	X	X

A.3. Indica si el teu pare i la teva mare treballen. Digues també en què consisteix la feina que fan i a quin tipus de sector pertany.

Quina feina t'agradaria fer de gran? A quin sector pertany aquesta feina?



BAULA

5è Primària > Coneixement del medi > Espanya: Relleu i població

FITXA 8: Els sectors i els transports

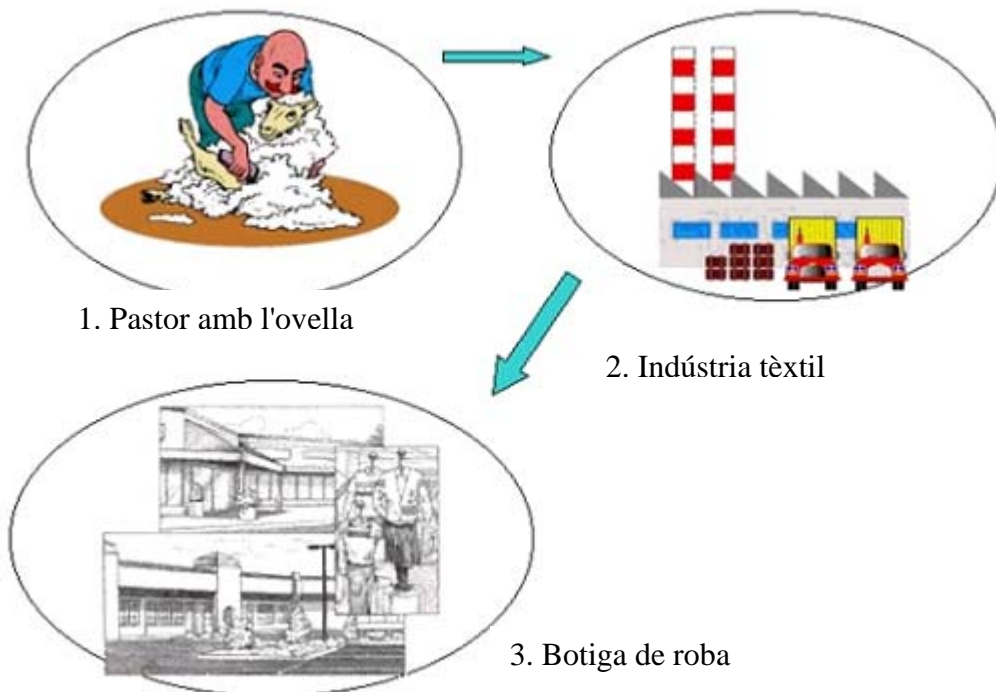
Centre:

Alumne/a:

Curs:

Data:

A.1. AQUEST GRÀFIC MOSTRA EL RECORREGUT QUE FA UN JERSEI DE LLANA DES DE L'OBTENCIÓ DE LA MATÈRIA PRIMERA FINS QUE EL COMPRES EN UNA BOTIGA:



1. Explica la transformació de la llana en aquest procés segons les tres etapes que veiem en el dibuix.

Primer s'esquila l'ovella per obtenir la llana.

En segon lloc, es confeccionen els teixits a la fàbrica.

Finalment, es posa a la venda al comerç.

2. Quines persones treballen en tot aquest procés de transformació? Indica a quin sector pertany cada una d'elles. Pensa que també hi ha persones que realitzen el transport de la llana i els teixits d'una part a una altra.

Sector primari: pastor i esquilador.

Sector secundari: operaris de la fàbrica.

Sector terciari: transportistes i comerciants.

LA PROPERA VEGADA QUE ET POSIS UN JERSEI, PENSA QUANTA GENT HA DE TREBALLAR PERQUÈ ARRIBI A LES TEVES MANS!



BAULA