



## FITXA 1: Els elements del relleu

Centre:

Alumne/a:

Curs:

Data:

### A.1. RELACIONA CADA PARAULA AMB EL DIBUIX CORRESPONENT MITJANÇANT UNA FLETXA:



Depressió

Vall

Muntanya



Altiplà



### A.2. RESPON A LES PREGUNTES SEGÜENTS:

Com s'anomena la localitat on vius?

Quin és el sistema muntanyós o accident del relleu que tens més pròxim dels que hem vist en el tema?

Com es diu el riu que passa per la teva localitat?

Si és un afluent, a quin altre riu aboca les aigües?

Si no és un afluent, a quin vessant pertany?

De quin tipus és el clima de la teva localitat?

Quin és el parc nacional que et queda més a prop?

Escriu el nom de tres localitats veïnes per on passi un riu. Digues també com s'anomenen aquests rius.



# BAULA

5è Primària > Coneixement del medi > Espanya: Relleu i població

## FITXA 2: Els elements del relleu

Centre:

Alumne/a:

Curs:

Data:

### A.1. OBSERVA AQUEST MAPA D'ESPANYA:



1. Dibuixa en el mapa els Pirineus, el sistema central, el Sistema Ibèric i Sierra Morena.
2. Pinta d'un color vermell la zona on el paisatge característic siguin pinedes i alzinars, així com horts i arbres fruiters.
3. Pinta de negre la zona ocupada pels altiplans.
4. Dibuixa de manera aproximada les illes Canàries i explica el tipus de clima i paisatge que les caracteritza.
5. Traça una línia gruixuda sobre la costa alta i rocosa.
6. Traça una línia fina sobre la costa baixa.
7. Traça, aproximadament els rius Ebre i Guadalquivir, i marca les depressions que generen.
8. Situa la teva ciutat, de manera aproximada, en el mapa.
9. Dibuixa el recorregut dels rius Tajo i Segura de manera aproximada.



# BAULA

5è Primària > Coneixement del medi > Espanya: Relleu i població

## FITXA 3 Els rius d'Espanya

Centre:

Alumne/a:

Curs:

Data:

### A.1. OBSERVA EL MAPA SEGÜENT DELS RIUS D'ESPANYA:



1. Situa la localitat on vius en el mapa i marca el riu que hi passa o, almenys, el més proper.
  2. Escriu i marca quatre rius del vessant mediterrani.
  3. Escriu i marca quatre rius del vessant atlàntic.
  4. Escriu i marca quatre rius del vessant cantàbric.
  5. Quin és el riu més llarg del vessant mediterrani? Fixa't en el mapa i escriu-ne quatre afluents.
- Escriu quatre afluents del riu Duero i quatre del Tajo. Desemboquen, aquests rius, a Espanya?  
Són afluents del Duero...  
Són afluents del Tajo...



# BAULA

5è Primària > Coneixement del medi > Espanya: Relleu i població

## FITXA 4 Mapa físic d'Espanya

Centre:

Alumne/a:

Curs:

Data:

### A.1. OBSERVA AQUEST MAPA FÍSIC D'ESPANYA I RESPON A LES PREGUNTES:



1. Situa la localitat on vius en el mapa i digues si es troba a la Meseta, en un sistema muntanyós o, almenys, quin és el més proper.
2. Localitza en el mapa la ciutat de Zamora i respon: es troba a la Meseta nord o sud? Quin riu passa per Zamora?
3. Escriu el nom de tres ciutats amb un clima mediterrani.
4. Escriu el nom de tres ciutats que pertanyin a la costa cantàbrica.
5. Escriu el nom de dues ciutats que pertanyin a la costa atlàntica gallega i dues que pertanyin a l'atlàntica andalusa.
6. Escriu el nom d'una ciutat o zona que tingui clima continental i una altra que tingui clima subtropical.
7. Quin mar banya les costes de Màlaga?



## FITXA 5 Població

Centre:

Alumne/a:

Curs:

Data:

### A.1. OBSERVA AQUESTES DADES SOBRE FRANÇA:

SUPERFÍCIE: 551.500 km<sup>2</sup>

TAXA DE NATALITAT: 500.000

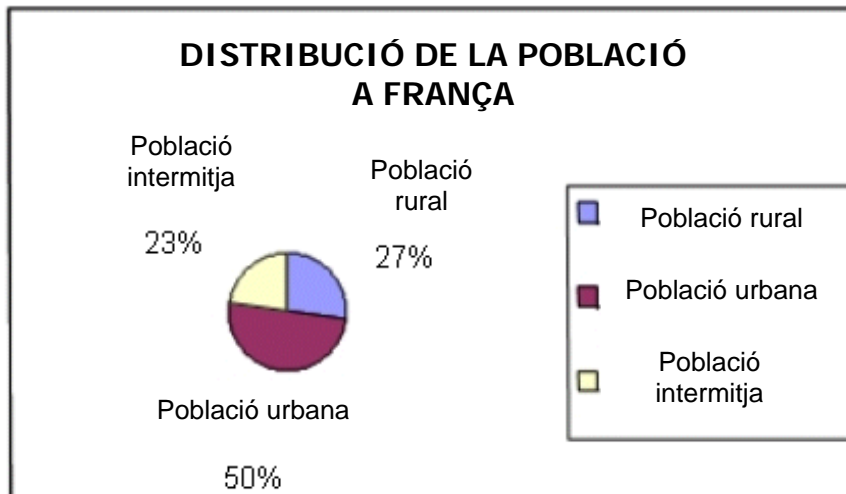
POBLACIÓ: 58.000.000

TAXA DE MORTALITAT: 450.000

ESPERANÇA DE VIDA: 81 anys

IMMIGRANTS: 200.000

EMIGRANTS: 50.000



[DISTRIBUCIÓ DE LA POBLACIÓ A FRANÇA; població intermèdia; població rural; població urbana]

1. Calcula la densitat de la població.
2. Calcula el creixement vegetatiu.
3. Calcula el nombre de persones que van començar a viure a França:  
TAXA DE NATALITAT + IMMIGRANTS =
4. Calcula el nombre de persones que van deixar de viure a França:  
TAXA DE MORTALITAT + EMIGRANTS =
5. Calcula el creixement de la població a França:  
RESPOSTA PREGUNTA 3 - RESPOSTA PREGUNTA 4 =
6. Comenta com és la distribució de la població a França:



## FITXA 6 Gràfics de població

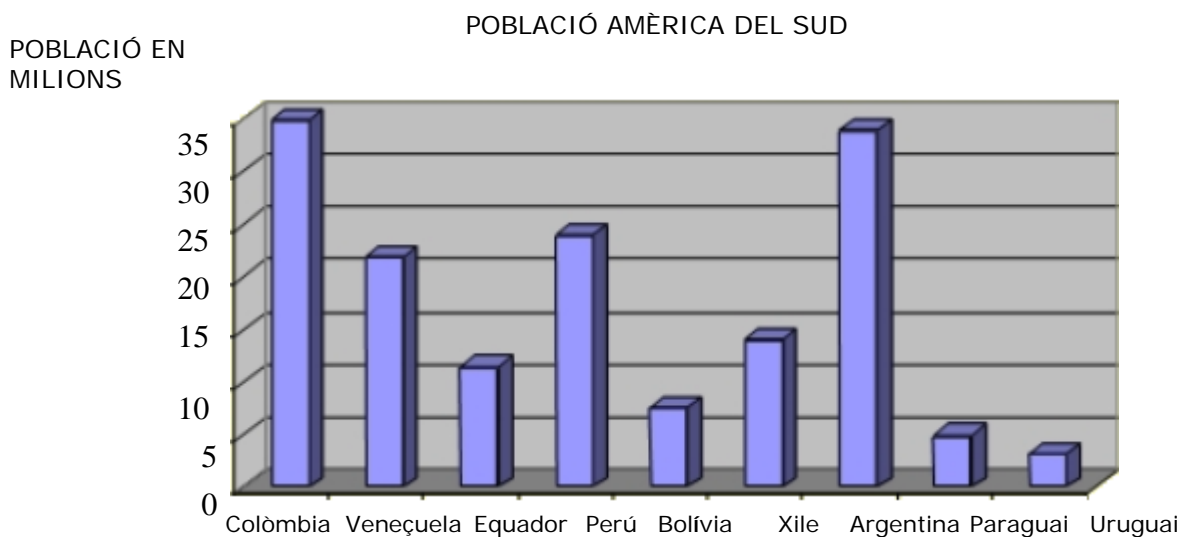
Centre:

Alumne/a:

Curs:

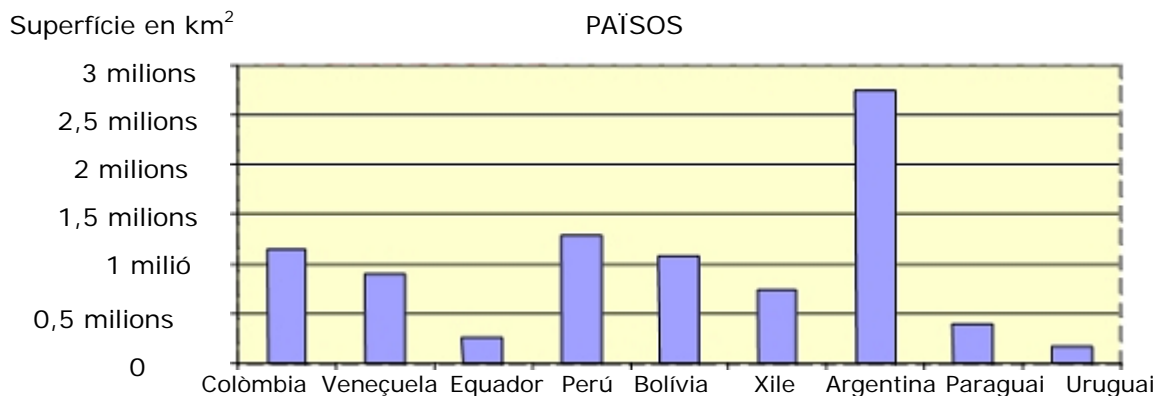
Data:

### A.1. ET PRESETEM UN GRÀFIC DE LA SUPERFÍCIE DELS PAÏSOS DE L'AMÈRICA DEL SUD:



1. Quin és el país dels representats que té més població? Quanta?
2. Quin és el país que té menys quantitat de població? Quina quantitat?

### A.2. LES SUPERFÍCIES D'AQUESTS PAÏSOS SÓN: (TOTES LES DADES ESTAN EN KM<sup>2</sup>):



1. Calcula la densitat de població dels països i ordena'ls de manera creixent.



## FITXA 7: Els sectors i els transports


Centre:

Alumne/a:

Curs:

Data:

### A.1. UNEIX AMB FLETXES LES PROFESSIONS SEGÜENTS AMB EL SECTOR A QUÈ PERTANYEN:



### A.2. ASSENYALA AMB UNA X EL TRANSPORT USAT PER TRASLLADAR CADA TIPUS DE MERCADERIA:

	Transport aeri	Transport carretera	Transport marítim	Transport ferroviari
Bestiar		X		X
Persones				
Petroli				
Ciment				
Fruites				
Cotxes				

### A.3. Indica si el teu pare i la teva mare treballen. Digues també en què consisteix la feina que fan i a quin tipus de sector pertany.

Quina feina t'agradaria fer de gran? A quin sector pertany aquesta feina?



# BAULA

5è Primària> Coneixement del medi> Espanya: Relleu i població

## FITXA 8: Els sectors i els transports

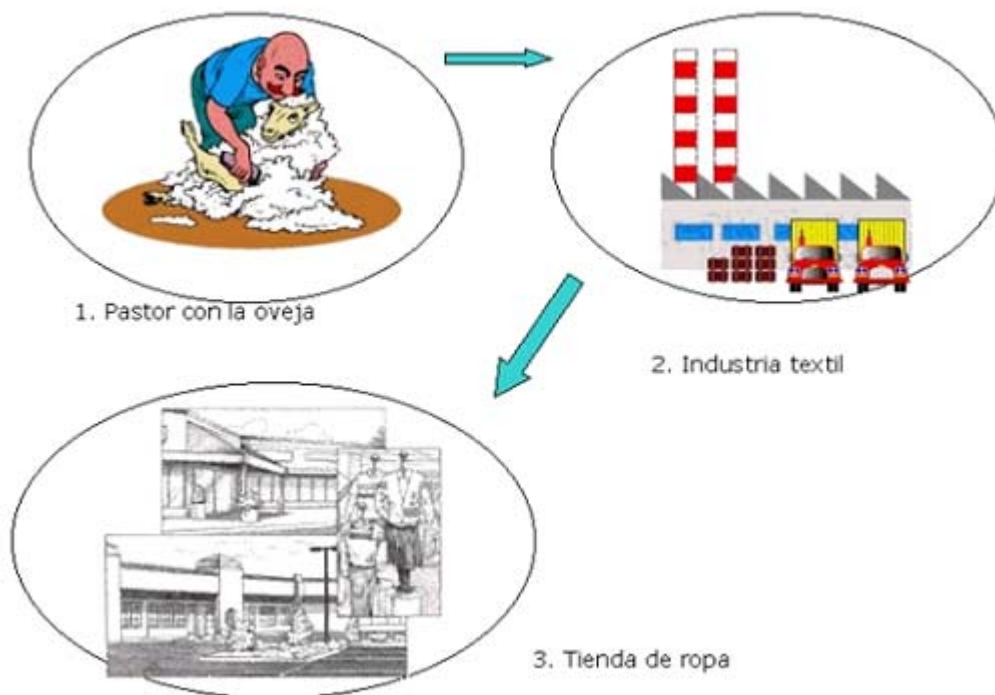
Centre:

Alumne/a:

Curs:

Data:

**A.1. AQUEST GRÀFIC MOSTRA EL RECORREGUT QUE FA UN JERSEI DE LLANA DES DE L'OBTENCIÓ DE LA MATÈRIA PRIMERA FINS QUE EL COMPRES EN UNA BOTIGA:**



1. Explica la transformació de la llana en aquest procés segons les tres etapes que veiem en el dibuix.

2. Quines persones treballen en tot aquest procés de transformació? Indica a quin sector pertany cada una d'elles. Pensa que també hi ha persones que realitzen el transport de la llana i els teixits d'una part a una altra.

LA PROPERA VEGADA QUE ET POSIS UN JERSEI, PENSA QUANTA GENT HA DE TREBALLAR PERQUÈ ARRIBI A LES TEVES MANS!